

Nasza klasa ☺

Temat: Wiosenna wyprawa.



Wiersz Marcina Przewoźniaka „Majówka”

Kliknij w link:

[https://flipbook.nowaera.pl/dokumenty/Flipbook/Elementarz-Odkrywcow \[cz 4\]\[kl 2\]\[pr 2018\]/?fbclid=IwAR2aYuvGPqSEG79gGQtkAI2rXlpit aJSHYcNg_XALVmK3lslwWbVSNFxFrhM#p=1](https://flipbook.nowaera.pl/dokumenty/Flipbook/Elementarz-Odkrywcow [cz 4][kl 2][pr 2018]/?fbclid=IwAR2aYuvGPqSEG79gGQtkAI2rXlpit aJSHYcNg_XALVmK3lslwWbVSNFxFrhM#p=1)

Otwórz na str.23

Marcin Przewoźniak

Majówka


Dość siedzenia na kanapie!
Tata palcem gna po mapie,
mama trzyma kosz pyszności,
a mnie plecak strasznie złości!

Chcę w nim różne skarby schować –
on nie daje się spakować!

Biorę to, co najważniejsze:
miśki większe, miśki mniejsze,
klocki, bierki, torbę krówek,
łuk, latarkę i ołówek...

Plastikową strzelbę też,
gdyby nadszedł dziki zwierz!
Jeszcze laptop, mocna lina...
Oj! I znów się nie dopina...

– Drogi synu – spytał tata
– jedziesz w podróż przez pół świata
czy z rodziną na majówkę?...
O! Masz krówki! Dasz mi krówkę?

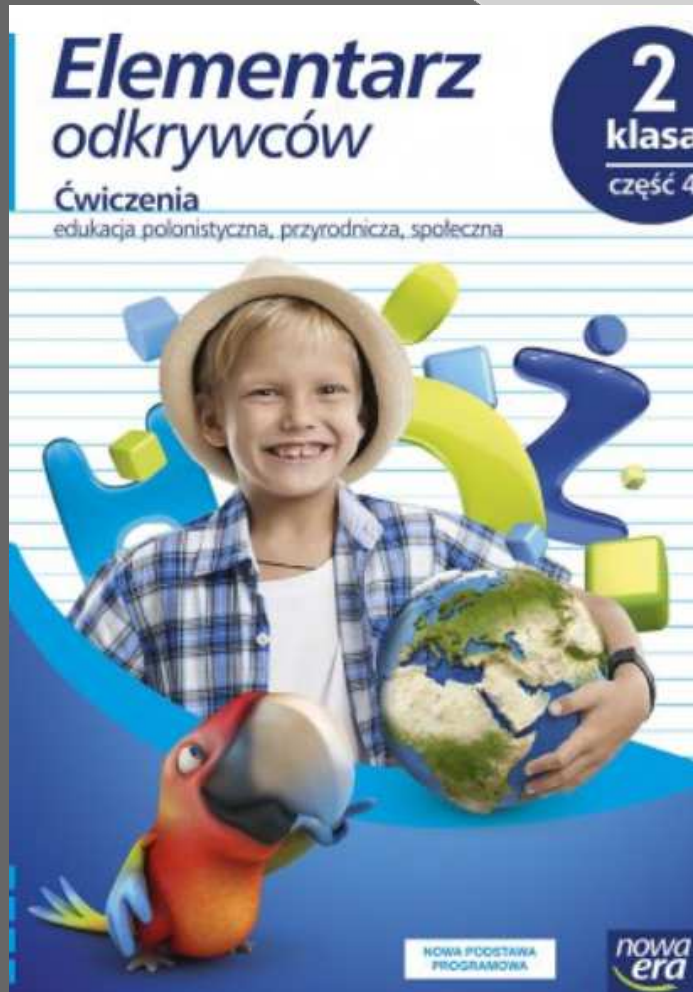


Odpowiedz na pytania do tekstu:

1. Czym zajmowali się przed majówką członkowie rodziny?
2. Co chłopiec próbował spakować na wyprawę? Czy było to potrzebne? Dlaczego?
3. Jak myślisz, co należy zabrać na majówkę? Zrób listę najpotrzebniejszych rzeczy.
4. Zaproponuj inne „wiosenne” sposoby spędzania wolnego czasu na świeżym powietrzu.



PRZYGOTUJ
ĆWICZENIA
Wykonaj ćw.1,2,3
str. 30



1. Na podstawie wiersza „Majówka” wpisz nazwy rzeczy, które chłopiec zapakował do plecaka.

zabawki:

słodycze:

inne:

Biorę to, co najważniejsze:
miśki większe, miśki mniejsze,
klocki, bierki, torbę krówek,
łuk, latarkę i ołówek...
Plastikową strzelbę też,
gdyby nadszedł dziki zwierz!
Jeszcze laptop, mocna lina...

Przypominajka 😊

https://www.youtube.com/watch?v=n2ajdxD_0oY



Wykonaj ćw.5,6 str. 31

5. Zaznacz te obrazki, na których zostały przedstawione sposoby wypoczyniania służące utrzymaniu dobrej kondycji fizycznej.



6. Napisz w zeszycie, w jaki sposób ty lubisz wypoczywać. Skorzystaj z wyrazów z ramki. Użyj ich w odpowiedniej formie.

świeże powietrze • grać • w piłkę • na komputerze •
bawić się • zwiedzać • piknik • chodzić • oglądać •
spacery • wyprawy • zabawy • wędkować • wycieczki •
brać udział • organizować • podróżować • muzeum

Lekcja 18.05



Temat: Wiosenna wyprawa.

Ćw.4 str.31

borówka, ...

Ćw.6 str.31

np.

Lubię wypoczywać na świeżym powietrzu.

Często gram w piłkę i chodzę na spacer.

...

Lub

Wiosna to wspaniały czas do aktywnego wypoczynku, dlatego będę...

(napisz kilkuzdaniową wypowiedź na temat ulubionych form wypoczynku)

Odpowiedz na pytanie kluczowe:

- Pytanie kluczowe: W jakich miejscach najbardziej lubisz wypoczywać?
- Porozmawiaj o tym w domu z Rodzicami.



Matematyka

(Podręcznik str.48)

Przypominajka☺

1	2	3	4	5	6	7	8	9	10
2	4	6	8	10	12	14	16	18	20
3	6	9	12	15	18	21	24	27	30
4	8	12	16	20	24	28	32	36	40
5	10	15	20	25	30	35	40	45	50
6	12	18	24	30	36	42	48	54	60
7	14	21	28	35	42	49	56	63	70
8	16	24	32	40	48	56	64	72	80
9	18	27	36	45	54	63	72	81	90
10	20	30	40	50	60	70	80	90	100

1. Do jednej ze szkół w Warszawie coraz więcej dzieci przyjeżdża na lekcje rowerami. Rowery zostawiają w 10 stojakach przed szkołą.

Ile rowerów mieści się w jednym stojaku?

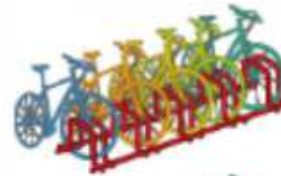
Ile rowerów mieści się w:

- 4 stojakach?

$$4 \cdot \boxed{\text{?}} = \boxed{\text{?}}$$



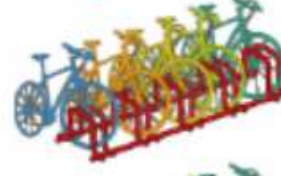
- 5 stojakach?




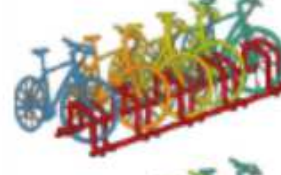
- 6 stojakach?




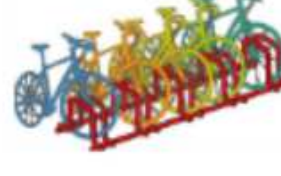
- 7 stojakach?



- 8 stojakach?



- 9 stojakach?



- 10 stojakach?

Obliczenia zapisuj w zeszytcie.

- W piątek 2 stojaki były wolne. Ile dzieci w tym dniu przyjechało rowerami do szkoły? Obliczenia zapisz w zeszytcie.

Wykonaj ćwiczenia
str.55 ćw.1,2,3,4,5



1. Wykonaj obliczenia. Wyniki wpisz do tabeli.

-5	1	2	3	4	5	6	7	8	9	10	:5

• Odczytaj z tabeli działania na dzielenie. Wybierz pięć i je zapisz.

50 : 5 = 10		

2. Milenka wycinała motyle do dekoracji klasy.

Ile motyli wycięła z jednej kartki?

Ile motyli wytnie z:

6

, 7

, 8

, 9

, 10

 kartek?



3. Łukasz czyta książkę, która ma 45 stron.

Codziennie czyta po 5 stron. W ciągu ilu dni przeczyta tę książkę?

--	--	--	--	--	--	--	--	--	--

4. Pod każdym zegarem zapisz, która godzina była 5 minut wcześniej i która będzie za 5 minut.




--	--	--	--	--	--	--	--	--	--

5. Każdą liczbę z pierwszego kwadratu pomnóż przez 5. Wynik wpisz w drugim kwadracie, w polu o odpowiednim kolorze. Według tej samej zasady dziel kolejne liczby przez 3.

3	5	8	· 3	9			: 3			
4	2	6							2	
1	9	7								

• Co można zauważyć?

Dziękuję za uwagę😊



Wasza Pani