

Nasza klasa 😊

Temat: Metka i jej przyjaciele.



Książka Jana Grabowskiego „Czarna owieczka”



- <https://learningapps.org/1557675?fbclid=IwAR3yaYgts6lhvg8qWac2nFtwAY59nJlyEmzOOPn1zxUbknP8xhKHPLNyxDU>

Zosia

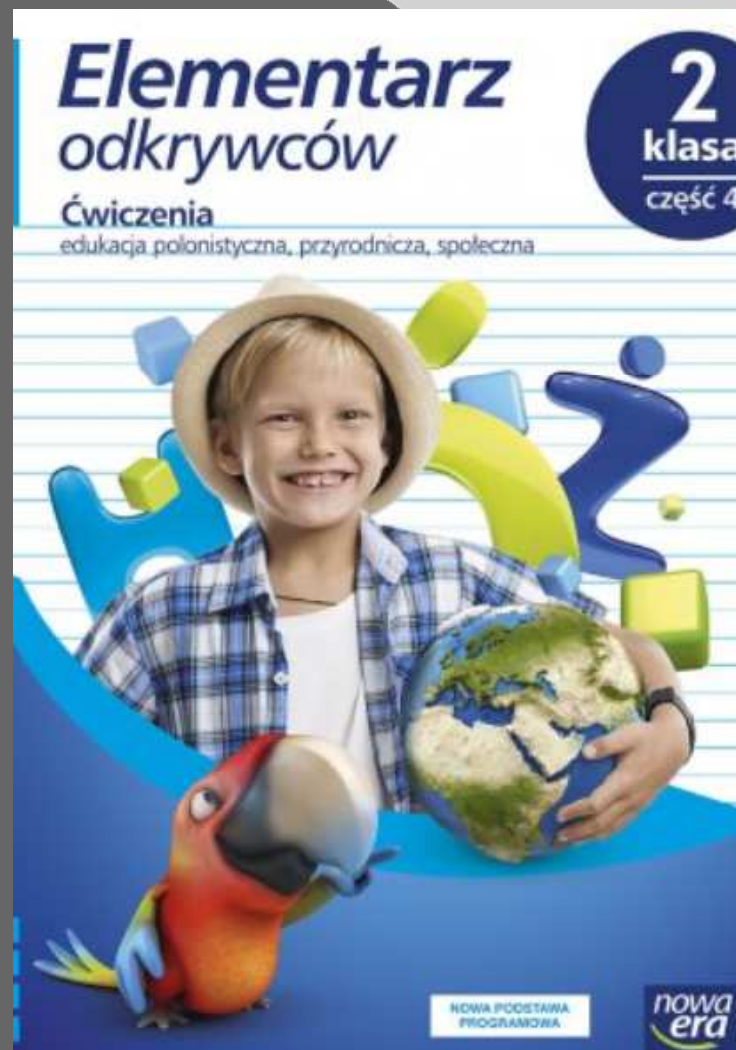
Metka

Peretka

Wierna



PRZYGOTUJ ĆWICZENIA
Wykonaj ćw.1,2,3
str. 26



1. Rozpoznaj bohaterów książki „Czarna owieczka”. Zapisz ich imiona na wizytówkach.



- Pokoloruj określenia pasujące do każdego ze zwierząt kredką w kolorze jego wizytówki.

rozbrykana

wesoły

głośna

leniwy

wierna

troskliwa

opiekuńcza

kłótlivy


energiczna

2. Napisz po jednym zdaniu na temat każdego bohatera.

3. Przeczytaj, co robiła Metka. Podkreśl te czynności, które świadczą o tym, że zachowywała się jak pies.

wybiegała do furtki i beczała na obcych goniła kury
stawała na dwu łapach biegała z kością w zębach
szczypała trawę spała z Misiem w budzie lizała sól

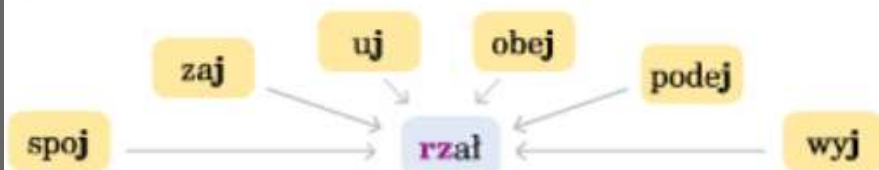
4. Wklej wypowiedzi Zosi i Wisi. Wyjaśnij, jak je rozumiesz.



● Połącz dwa wybrane zdania w jedno, używając wyrazu z ramki. Zapisz to zdanie.

Dziewczynki pokochały Metkę.
Metka spisała. Metka była inna niż Perelka. , chociaż

5. Utwórz i zapisz wyrazy. Podkreśl literę występującą przed rz.



● Powiedz, z wykonywaniem jakiej czynności są związane te czasowniki.
● Ułóż trzy zdania z wybranymi czasownikami i zapisz je w zeszytcie.

Wykonaj ćw.4,5 str. 27

● Ćw.4 str.27 np.

Dziewczynki pokochały Metkę, chociaż Metka była inna niż Perelka.

lub

Dziewczynki pokochały Metkę, chociaż Metka spisała.

Lekcja

15.05



Temat: Metka i jej przyjaciele.

Ćw.5 str.27

1. ...

2. ...

3. ...

Jaka była Metka?

Opisz cechy owieczki świadczące o jej psim zachowaniu. np.

Metka spsiała, ponieważ siadała tak jak..... .

Owieczka goniła, skakała do lecących

..... i

Słownictwo związane z wyglądem Misia i Metki

○ Uzupełnij :

PIES	OWCA
mniejszy od Metki	większa od psa
..... sierść	ciało pokryte skręconą, czarną wełną
uszy	uszy odstające
łapy zakończone pazurami	nogi zakończone
puszysty ogon ogonek

Odpowiedz na pytanie kluczowe:

- Pytanie kluczowe: O jakim zwierzątku marzysz?
- Porozmawiaj o tym w domu z Rodzicami.



Matematyka (Podręcznik str.47) Przypominajka😊

1	2	3	4	5	6	7	8	9	10
2	4	6	8	10	12	14	16	18	20
3	6	9	12	15	18	21	24	27	30
4	8	12	16	20	24	28	32	36	40
5	10	15	20	25	30	35	40	45	50
6	12	18	24	30	36	42	48	54	60
7	14	21	28	35	42	49	56	63	70
8	16	24	32	40	48	56	64	72	80
9	18	27	36	45	54	63	72	81	90
10	20	30	40	50	60	70	80	90	100

1. Rozwiąż zadania. Wskaż działanie, które jest rozwiązaniem każdego z nich.

W 6 rzędach posadzono 42 kalafiora, w każdym rzędzie po tyle samo. Ile kalafiorów rośnie w każdym rzędzie?

$42 : 7$

$42 - 7$

$6 \cdot 7$

$7 + 6$

$42 : 6$

$42 + 7$

W każdym rzędzie posadzono po 7 kalafiorów. Ile kalafiorów rośnie w 6 rzędach?

Posadzono 42 kalafiora, po 7 kalafiorów w rzędzie. W ilu rzędach posadzono kalafiora?

2. Odczytaj zapisane działania. Co można zauważyć?

$10 : 5 = 2$

$18 : 6 = 3$

$8 : 2 = 4$

$\downarrow \cdot 2 \quad \downarrow \cdot 2$

$\downarrow : 2 \quad \downarrow : 2$

$\downarrow \cdot 4 \quad \downarrow \cdot 4$

$20 : 10 = 2$

$9 : 3 = 3$

$32 : 8 = 4$

Wykonaj obliczenia w zeszyte.

$24 : 8 = 3$

$40 : 4 = \square$

$30 : 6 = \square$

$\downarrow : 4 \quad \downarrow : 4$

$\downarrow : 2 \quad \downarrow : 2$

$\downarrow : 3 \quad \downarrow : 3$

$\square : \square = \square$

$\square : \square = \square$

$\square : \square = \square$

3. W 4 torebkach było po 9 cukierków. Janek wyjął z jednej torebki 3 cukierki. Ile cukierków zostało?


4. Mama rozłożyła 36 ciastek na 6 talerzy, na każdym po tyle samo. Mela na swój talerz dołożyła 3 ciastka. Ile ciastek jest na jej talerzu?

Wykonaj ćwiczenia
str.55 ćw.1,2,3



1. Połącz działanie z właściwym wynikiem. Sprawdź dzielenie za pomocą mnożenia.

$42 : 6$	$30 : 5$	$36 : 6$	$49 : 7$	$32 : 4$	$36 : 4$
	6	7	4	8	9
$35 : 7$	$36 : 9$	$24 : 3$	$27 : 3$	$40 : 8$	$28 : 4$



2. Czym interesują się dzieci? Ile eksponatów ma każde w swojej kolekcji?

Kacper interesuje się piłką nożną. Ma w albumie na 7 stronach po 6 kart z piłkarzami.

--	--	--	--	--	--	--



Zosia zbiera figurki zwierząt. Na 4 półkach ustawiła po 8 figurek.



--	--	--	--	--	--	--	--

Pola interesuje się muzyką. Ma płyty na 6 półkach, na każdej po 8 płyt.

--	--	--	--	--	--




Franek zbiera kolorowe kamienie. Ma 6 pudełek, w każdym z nich jest po 6 kamieni.

--	--	--	--	--	--



3. Ułóż zadanie do działania: $36 : 4$. Rozwiązanie zapisz w zeszytcie.

Dziękuję za uwagę😊



Wasza Pani